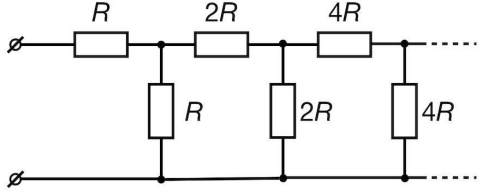

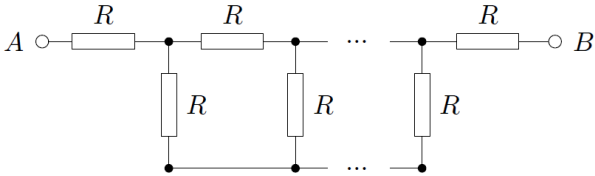
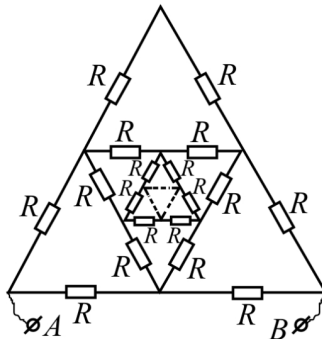
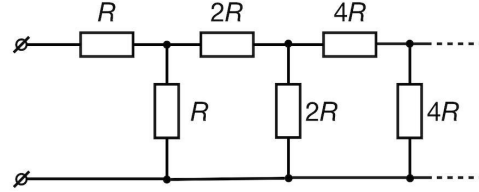

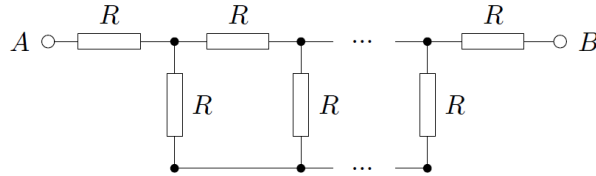


1	<p>Найти эквивалентное сопротивление бесконечной цепи, изображённой на рисунке.</p> 
2	<p>Определите сопротивление полубесконечной цепочки между точками A и B, если сопротивление каждого звена равно R.</p> 
3	<p>Найти сопротивление между клеммами A и B цепи, изображённой на рисунке и состоящей из бесконечного числа одинаковых резисторов с сопротивлением R.</p> 
4	<p>Найдите сопротивление между клеммами A и B бесконечной цепи, схема которой изображена на рисунке. Сопротивление каждого резистора равно R.</p> 

1	<p>Найти эквивалентное сопротивление бесконечной цепи, изображённой на рисунке.</p> 
2	<p>Определите сопротивление полубесконечной цепочки между точками A и B, если сопротивление каждого звена равно R.</p> 
3	<p>Найти сопротивление между клеммами A и B цепи, изображённой на рисунке и состоящей из бесконечного числа одинаковых резисторов с сопротивлением R.</p> 
4	<p>Найдите сопротивление между клеммами A и B бесконечной цепи, схема которой изображена на рисунке. Сопротивление каждого резистора равно R.</p> 